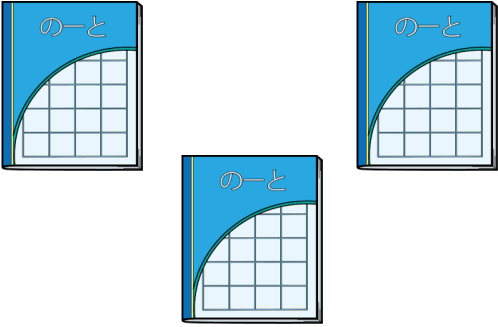
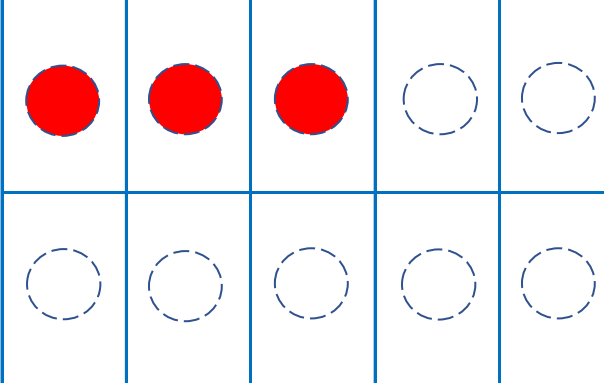
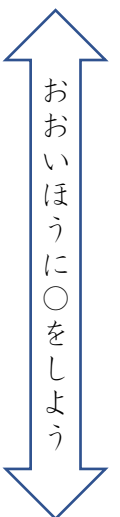




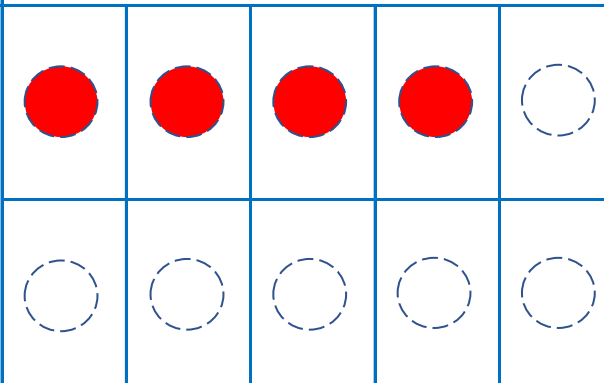
どちらが おおいかな？

なまえ

❓ どちらが おおいでしょうか？かぞえて くらべましょう。

| えの かずをかぞえよう | | | | | ○にいろをぬろう | | | | | | | | | |
|---|---|---|---|---|---|--|--|--|--|---|---|---|---|----|
|  | | | | |  | | | | | | | | | |
| | | | | | <p>すうじに ○(まる)をしよう</p> <table border="1"> <tr> <td>1</td> <td>2</td> <td>3</td> <td>4</td> <td>5</td> <td>6</td> <td>7</td> <td>8</td> <td>9</td> <td>10</td> </tr> </table> | | | | | 1 | 2 | 3 | 4 | 5 |
| 1 | 2 | 3 | 4 | 5 | | | | | | 6 | 7 | 8 | 9 | 10 |



| えの かずをかぞえよう | | | | | ○にいろをぬろう | | | | | | | | | |
|---|---|---|---|---|---|--|--|--|--|---|---|---|---|----|
|  | | | | |  | | | | | | | | | |
| | | | | | <p>すうじに ○(まる)をしよう</p> <table border="1"> <tr> <td>1</td> <td>2</td> <td>3</td> <td>4</td> <td>5</td> <td>6</td> <td>7</td> <td>8</td> <td>9</td> <td>10</td> </tr> </table> | | | | | 1 | 2 | 3 | 4 | 5 |
| 1 | 2 | 3 | 4 | 5 | | | | | | 6 | 7 | 8 | 9 | 10 |

