










かけ算九九(2の段)

なまえ

❓ 2の段のかけ算をしましょう。□に数字をかきましょう。

	$\square \times \square = \square$	にいち 二一が2
	$\square \times \square = \square$	ににん 二二が4
	$\square \times \square = \square$	にさん 二三が6
	$\square \times \square = \square$	にし 二四が8
	$\square \times \square = \square$	にご 二五10
	$\square \times \square = \square$	にろく 二六12
	$\square \times \square = \square$	にしち 二七14
	$\square \times \square = \square$	には 二八16
	$\square \times \square = \square$	にく 二九18