







かけ算九九(6の段)

なまえ

❓ 6の段のかけ算をしましょう。 □に数字をかきましょう。

	$\square \times \square = \square$	ろいち 六一が6
	$\square \times \square = \square$	ろくに 六二12
	$\square \times \square = \square$	ろくさん 六三18
	$\square \times \square = \square$	ろくし 六四24
	$\square \times \square = \square$	ろくご 六五30
	$\square \times \square = \square$	ろくろく 六六36
	$\square \times \square = \square$	ろくしち 六七42
	$\square \times \square = \square$	ろくはち 六八48
	$\square \times \square = \square$	ろくく 六九54